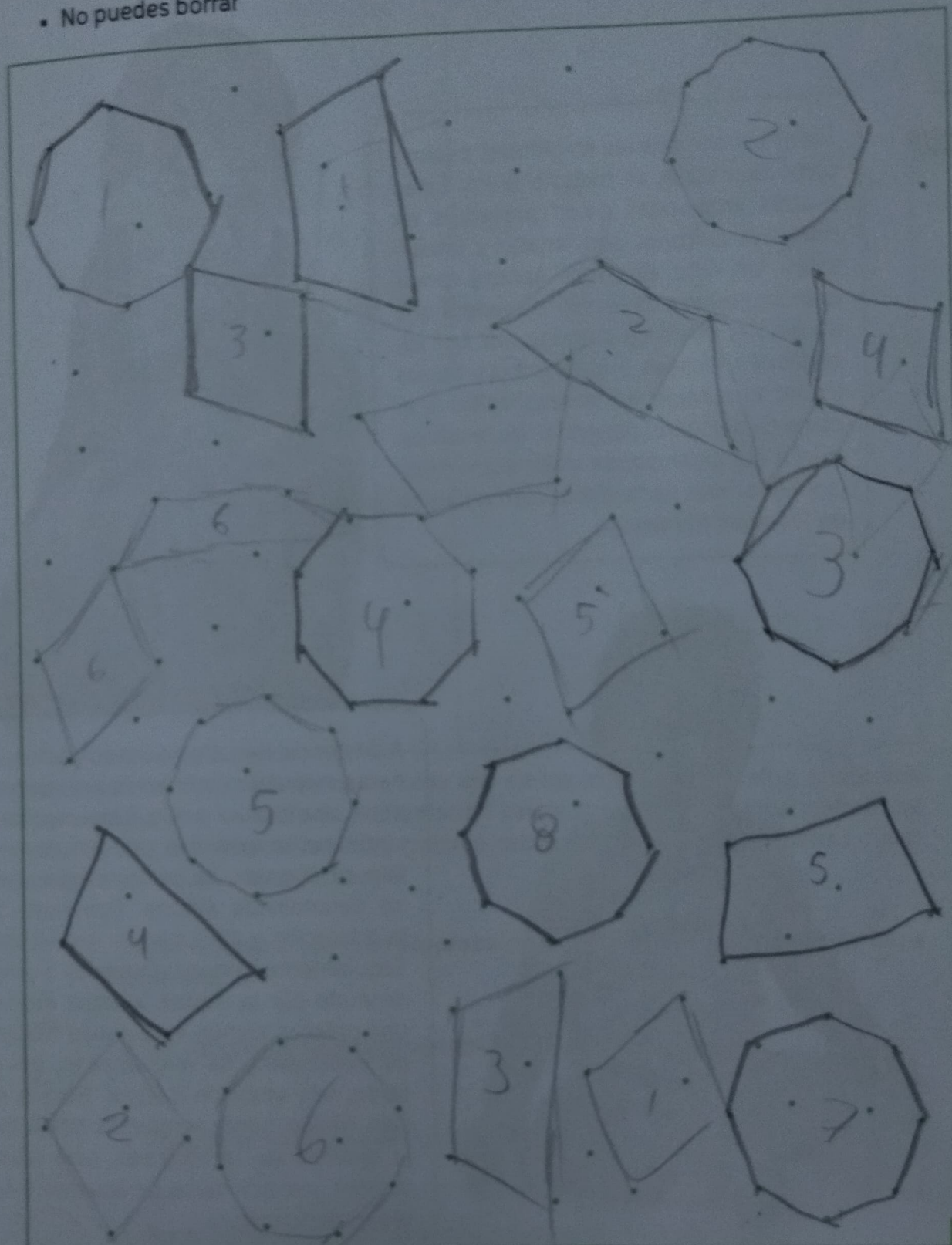



3. Encuentra en la nube de puntos las tres figuras geométricas que se presentan.
Toma en cuenta lo siguiente:

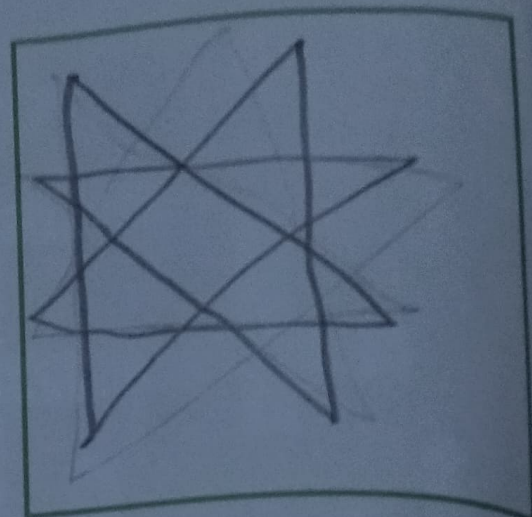
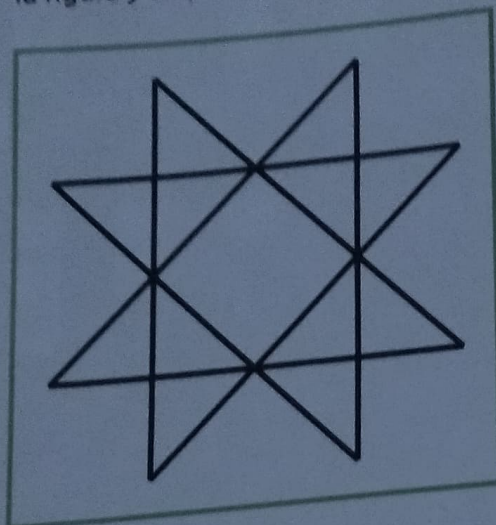
- Tienes que localizar ocho figuras de cada tipo
- Es posible que entre figuras compartan puntos
- No puedes mover el cuaderno de trabajo, ni tu cuerpo para hacer los trazos
- No puedes borrar





Representa mentalmente

1. Reproduce la figura de la izquierda de un solo trazo sin levantar el lápiz del papel en el cuadro de la derecha. Si tienes que corregir algo deberás borrar toda la figura y empezar de nuevo.



2. El jardinero de un gran magnate de los Emiratos Árabes, se caracteriza por cumplir los más fervientes deseos de su caprichoso patrón, para que este no le reduzca el sueldo. El magnate le ha pedido al dócil trabajador que en un terreno cuadrado planta 16 nogales, colocados de tal manera que se vieran 10 hileras rectas de 4 árboles cada una, le costó trabajo pero lo consiguió. Tú en lugar del jardinero ¿Cómo habrías colocado?

